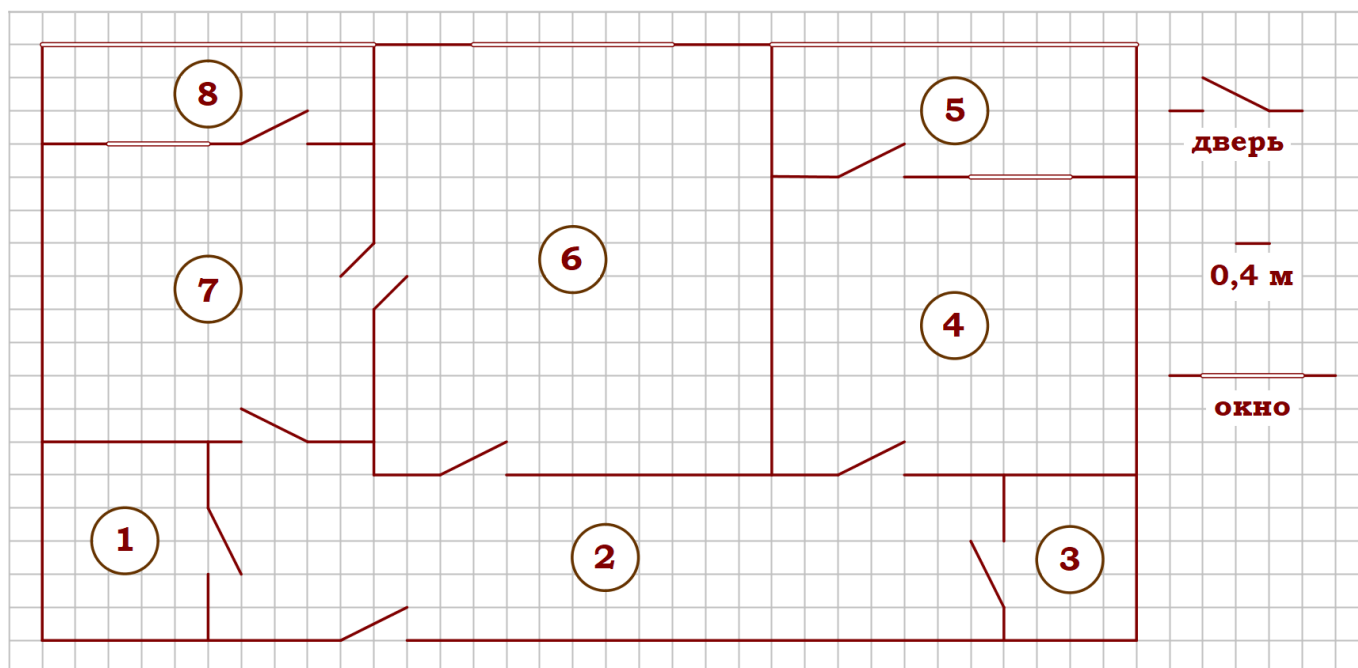


**01-05. Задачи с практическим содержанием
ФИПИ «Квартира»**



Задание 1. На рисунке изображён план двухкомнатной квартиры в многоэтажном жилом доме. Сторона одной клетки на плане соответствует 0,4 м, а условные обозначения двери и окна приведены в правой части рисунка. Вход в квартиру находится в коридоре. Слева от входа в квартиру находится санузел, а в противоположном конце коридора – дверь в кладовую. Рядом с кладовой находится спальня, из которой можно пройти на одну из застеклённых лоджий. Самое большое по площади помещение – гостиная, откуда можно попасть в коридор и на кухню. Из кухни также можно попасть на застеклённую лоджию.

1. Для объектов, указанных в таблице, определите, какими цифрами они обозначены на плане. Заполните таблицу, в бланк перенесите последовательность четырёх цифр без пробелов, запятых и других дополнительных символов.

Объекты	коридор	кладовая	спальня	санузел
Цифры				

2. Найдите площадь коридора. Ответ дайте в квадратных метрах.

Ответ: _____.

3. На сколько процентов площадь лоджии, примыкающей к кухне, больше площади кладовой?

Ответ: _____.

4. Плитка для пола размером 40 см на 40 см продаётся в упаковках по 12 штук. Сколько упаковок плитки понадобилось, чтобы выложить пол кухни?

Ответ: _____.

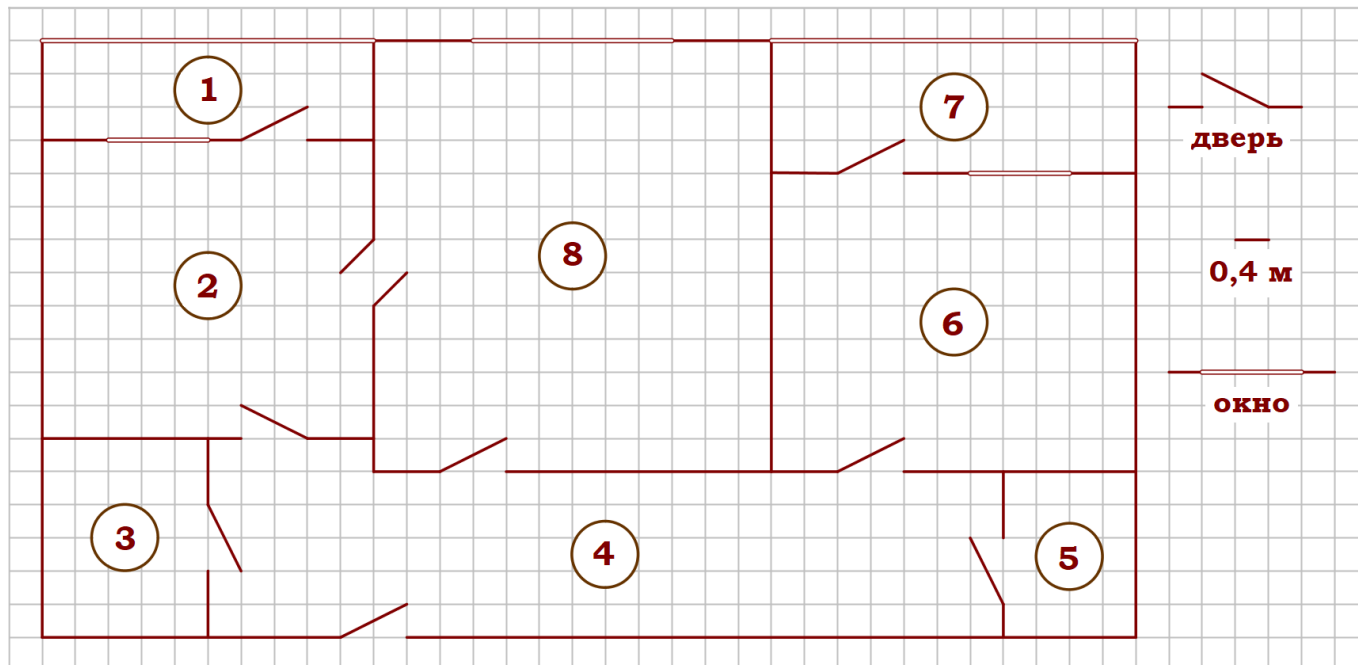
5. В квартире планируется заменить электрическую плиту. Характеристики электроплит, условия подключения и доставки приведены в таблице.

Планируется купить электрическую плиту шириной 50 см с духовкой объёмом не менее 52 л.

Мо-дель	Объём духовки (л)	Макси-мальная температура (°С)	Стоимость плиты (руб.)	Стоимость подклю-чения (руб.)	Стоимость доставки (% от стоимости плиты)	Габариты (высота × ширина × глубина, см)
А	50	280	8890	1700	бесплатно	85×50×54
Б	50	300	9790	750	10	85×50×54
В	50	250	11 690	700	10	85×60×60
Г	52	250	17 490	800	10	85×60×60
Д	70	275	17 990	1400	бесплатно	85×60×45
Е	58	250	18 890	1500	бесплатно	85×50×60
Ж	54	270	18 900	750	15	85×50×60
З	46	250	20 990	750	10	87×50×60
И	70	275	21 690	1500	бесплатно	85×50×60
К	67	250	22 990	1500	бесплатно	85×50×60

Сколько рублей будет стоить наиболее дешёвый подходящий вариант вместе с подключением и доставкой?

Ответ: _____.



Задание 2. На рисунке изображён план двухкомнатной квартиры в многоэтажном жилом доме. Сторона одной клетки на плане соответствует 0,4 м, а условные обозначения двери и окна приведены в правой части рисунка. Вход в квартиру находится в коридоре. Слева от входа в квартиру находится санузел, а в противоположном конце коридора – дверь в кладовую. Рядом с кладовой находится спальня, из которой можно пройти на одну из застеклённых лоджий. Самое большое по площади помещение – гостиная, откуда можно попасть в коридор и на кухню. Из кухни также можно попасть на застеклённую лоджию.

1. Для объектов, указанных в таблице, определите, какими цифрами они обозначены на плане. Заполните таблицу, в бланк перенесите последовательность четырёх цифр без пробелов, запятых и других дополнительных символов.

Объекты	коридор	санузел	спальня	гостиная
Цифры				

2. Найдите площадь большей лоджии. Ответ дайте в квадратных метрах.

Ответ: _____.

3. На сколько процентов площадь спальни больше площади кухни?

Ответ: _____.

4. Плитка для пола размером 20 см на 40 см продаётся в упаковках по 8 штук. Сколько упаковок плитки понадобилось, чтобы выложить пол са-нузла?

Ответ: _____.

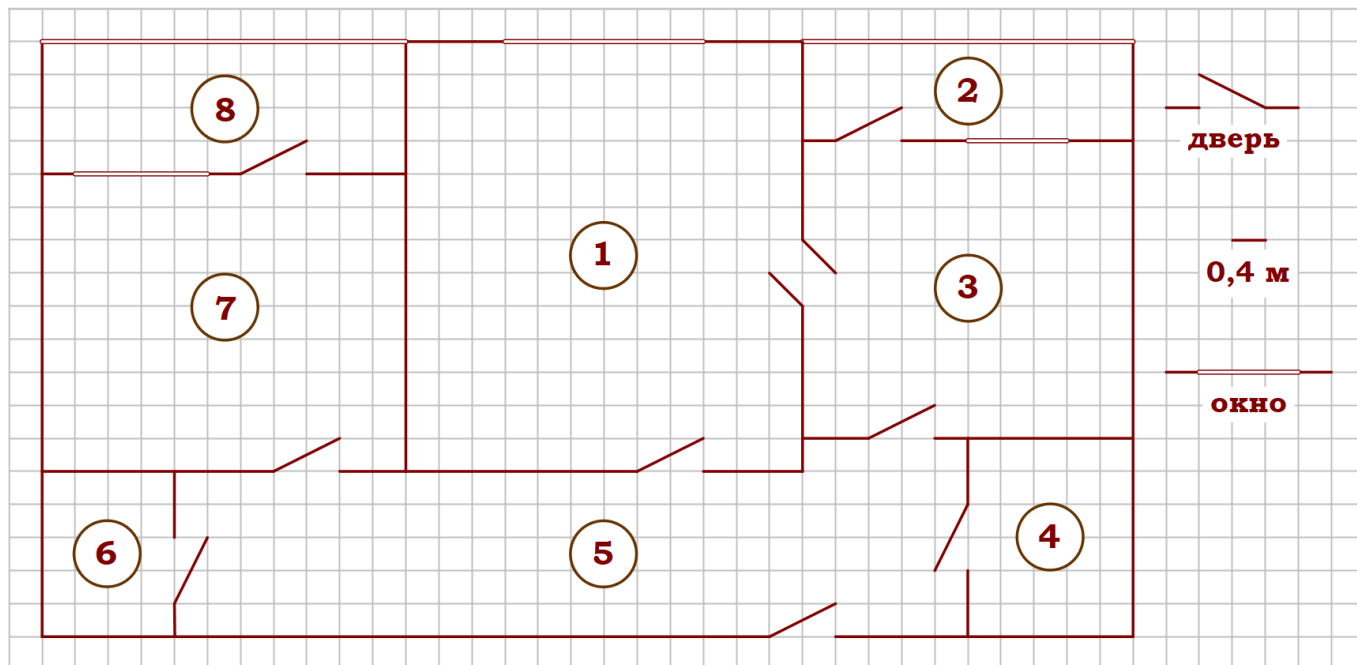
5. В квартире планируется заменить электрическую плиту. Характеристики электроплит, условия подключения и доставки приведены в таблице.

Планируется купить электрическую плиту глубиной 54 см с максимальной температурой не менее 275°C.

Мо-дель	Объём духовки (л)	Макси-мальная температура (°C)	Стоимость плиты (руб.)	Стоимость подклю-чения (руб.)	Стоимость доставки (% от стоимости плиты)	Габариты (высота × ширина × глубина, см)
А	50	280	8890	1700	бесплатно	85×50×54
Б	50	300	9790	750	10	85×50×54
В	50	250	11 690	700	10	85×60×60
Г	52	250	17 490	800	10	85×60×60
Д	70	275	17 990	1400	бесплатно	85×60×45
Е	58	250	18 890	1500	бесплатно	85×50×60
Ж	54	270	18 900	750	15	85×50×60
З	46	250	20 990	750	10	87×50×60
И	70	275	21 690	1500	бесплатно	85×50×60
К	67	250	22 990	1500	бесплатно	85×50×60

Сколько рублей будет стоить наиболее дешёвый подходящий вариант вме-сте с подключением и доставкой?

Ответ: _____.



Задание 3. На рисунке изображён план двухкомнатной квартиры в многоэтажном жилом доме. Сторона одной клетки на плане соответствует 0,4 м, а условные обозначения двери и окна приведены в правой части рисунка. Вход в квартиру находится в коридоре. Справа от входа в квартиру находится санузел, а в противоположном конце коридора – дверь в кладовую. Рядом с кладовой находится спальня, из которой можно пройти на одну из застеклённых лоджий. Самое большое по площади помещение – гостиная, откуда можно попасть в коридор и на кухню. Из кухни также можно попасть на застеклённую лоджию.

1. Для объектов, указанных в таблице, определите, какими цифрами они обозначены на плане. Заполните таблицу, в бланк перенесите последовательность четырёх цифр без пробелов, запятых и других дополнительных символов.

Объекты	кухня	гостиная	кладовая	коридор
Цифры				

2. Найдите площадь санузла. Ответ дайте в квадратных метрах.

Ответ: _____.

3. На сколько процентов площадь кухни больше площади лоджии, примыкающей к кухне?

Ответ: _____.

4. Паркетная доска размером 20 см на 80 см продаётся в упаковках по 12 штук. Сколько упаковок паркетной доски понадобилось, чтобы выложить пол коридора?

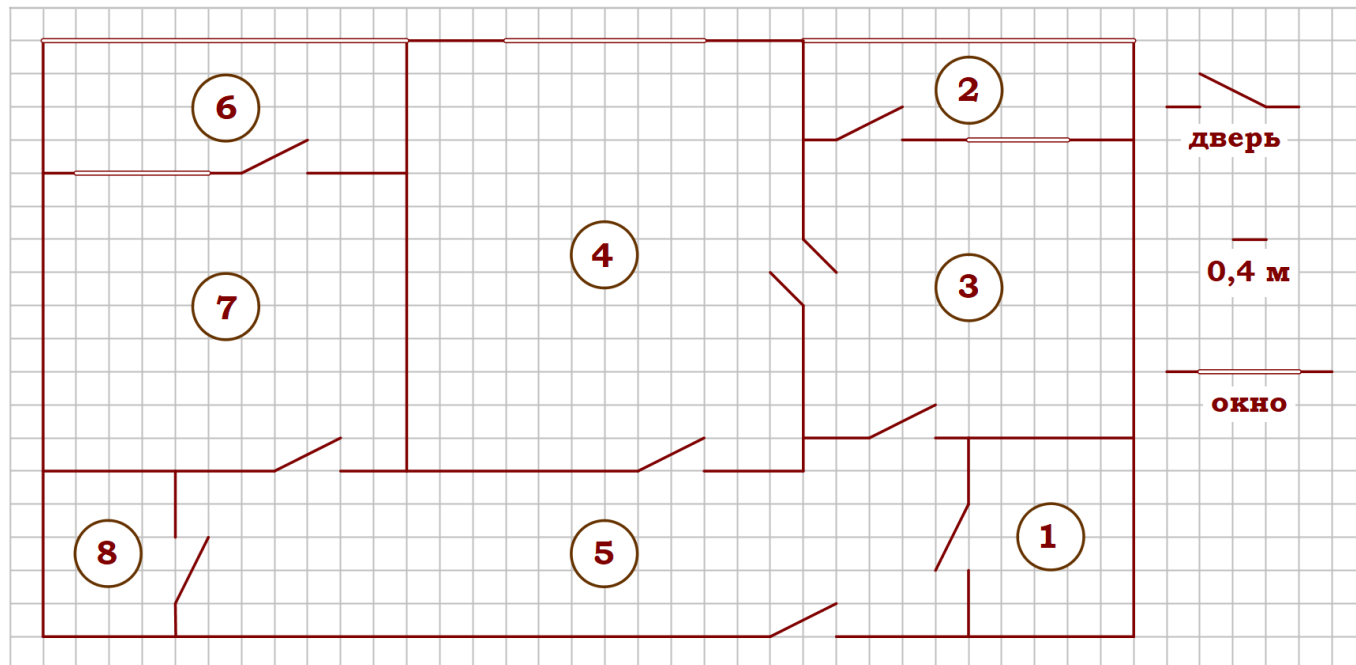
Ответ: _____.

5. В квартире планируется установить стиральную машину. Характеристики стиральных машин, условия подключения и доставки приведены в таблице. Планируется купить стиральную машину с фронтальной загрузкой вместимостью не менее 6 кг.

Модель	Вместимость барабана (кг)	Тип загрузки	Стоимость (руб.)	Стоимость подключения (руб.)	Стоимость доставки (% от стоимости машины)	Габариты (высота × ширина × глубина, см)
А	7	верт.	28 000	1700	бесплатно	85×60×45
Б	5	фронт.	24 000	4500	10	85×60×40
В	5	фронт.	25 000	5000	10	85×60×40
Г	6,5	фронт.	24 000	4500	10	85×60×44
Д	6	фронт.	28 000	1700	бесплатно	85×60×45
Е	6	верт.	27 600	2300	бесплатно	89×60×40
Ж	6	верт.	27 585	1900	10	89×60×40
З	6	фронт.	20 000	6300	15	85×60×42
И	5	фронт.	27 000	1800	бесплатно	85×60×40
К	5	верт.	27 000	1800	бесплатно	85×60×40

Сколько рублей будет стоить наиболее дешёвый подходящий вариант вместе с подключением и доставкой?

Ответ: _____.



Задание 4. На рисунке изображён план двухкомнатной квартиры в многоэтажном жилом доме. Сторона одной клетки на плане соответствует 0,4 м, а условные обозначения двери и окна приведены в правой части рисунка. Вход в квартиру находится в коридоре. Справа от входа в квартиру находится санузел, а в противоположном конце коридора – дверь в кладовую. Рядом с кладовой находится спальня, из которой можно пройти на одну из застеклённых лоджий. Самое большое по площади помещение – гостиная, откуда можно попасть в коридор и на кухню. Из кухни также можно попасть на застеклённую лоджию.

1. Для объектов, указанных в таблице, определите, какими цифрами они обозначены на плане. Заполните таблицу, в бланк перенесите последовательность четырёх цифр без пробелов, запятых и других дополнительных символов.

Объекты	кладовая	санузел	кухня	коридор
Цифры				

2. Найдите площадь кухни. Ответ дайте в квадратных метрах.

Ответ: _____.

3. На сколько процентов площадь спальни больше площади лоджии, примыкающей к спальне?

Ответ: _____.

4. Паркетная доска размером 20 см на 80 см продаётся в упаковках по 12 штук. Сколько упаковок паркетной доски понадобилось, чтобы выложить пол кладовой?

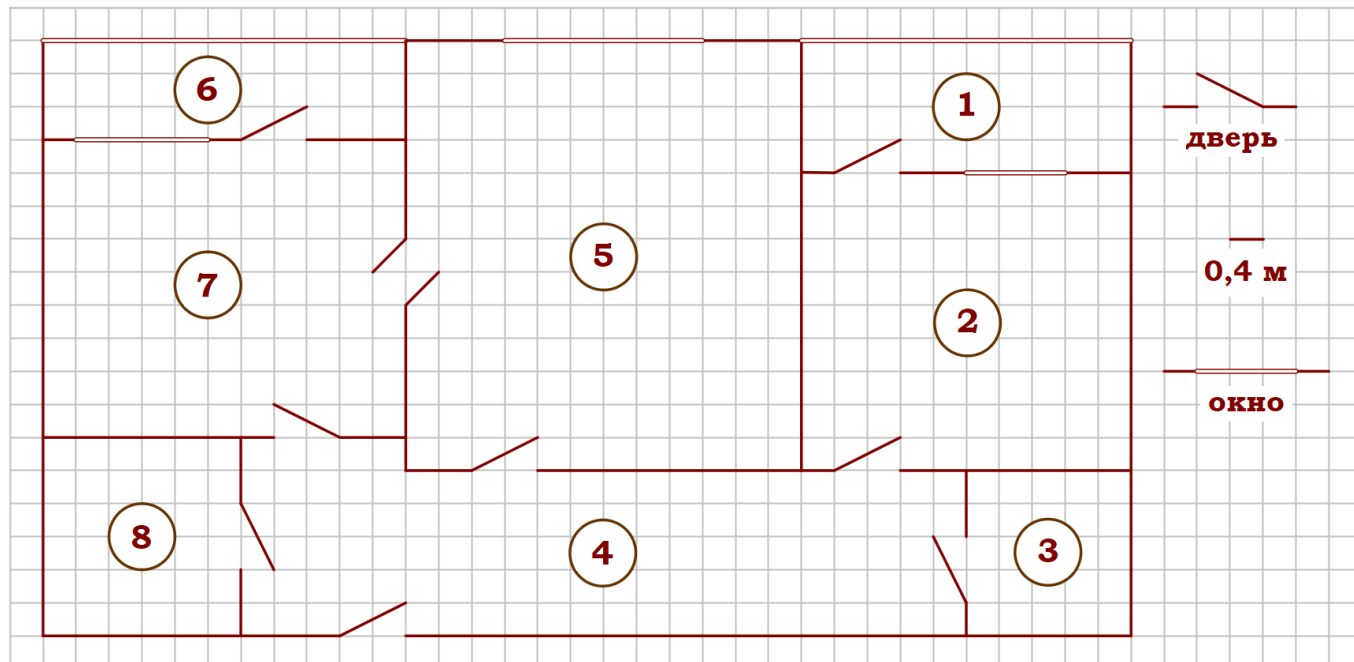
Ответ: _____.

5. В квартире планируется установить стиральную машину. Характеристики стиральных машин, условия подключения и доставки приведены в таблице. Планируется купить стиральную машину с фронтальной загрузкой, по глубине не превосходящую 42 см.

Модель	Вместимость барабана (кг)	Тип загрузки	Стоимость (руб.)	Стоимость подключения (руб.)	Стоимость доставки (% от стоимости машины)	Габариты (высота × ширина × глубина, см)
А	7	верт.	28 000	1700	бесплатно	85×60×45
Б	5	фронт.	24 000	4500	10	85×60×40
В	5	фронт.	25 000	5000	10	85×60×40
Г	6,5	фронт.	24 000	4500	10	85×60×44
Д	6	фронт.	28 000	1700	бесплатно	85×60×45
Е	6	верт.	27 600	2300	бесплатно	89×60×40
Ж	6	верт.	27 585	1900	10	89×60×40
З	6	фронт.	20 000	6300	15	85×60×42
И	5	фронт.	27 000	1800	бесплатно	85×60×40
К	5	верт.	27 000	1800	бесплатно	85×60×40

Сколько рублей будет стоить наиболее дешёвый подходящий вариант вместе с подключением и доставкой?

Ответ: _____.



Задание 5. На рисунке изображён план двухкомнатной квартиры в многоэтажном жилом доме. Сторона одной клетки на плане соответствует 0,4 м, а условные обозначения двери и окна приведены в правой части рисунка. Вход в квартиру находится в коридоре. Слева от входа в квартиру находится санузел, а в противоположном конце коридора – дверь в кладовую. Рядом с кладовой находится спальня, из которой можно пройти на одну из застеклённых лоджий. Самое большое по площади помещение – гостиная, откуда можно попасть в коридор и на кухню. Из кухни также можно попасть на застеклённую лоджию.

1. Для объектов, указанных в таблице, определите, какими цифрами они обозначены на плане. Заполните таблицу, в бланк перенесите последовательность четырёх цифр без пробелов, запятых и других дополнительных символов.

Объекты	гостиная	санузел	кухня	спальня
Цифры				

2. Найдите площадь меньшей лоджии. Ответ дайте в квадратных метрах.

Ответ: _____.

3. На сколько процентов площадь санузла меньше площади спальни?

Ответ: _____.

4. Паркетная доска размером 20 см на 40 см продаётся в упаковках по 8 штук. Сколько упаковок паркетной доски понадобилось, чтобы выложить пол гостиной?

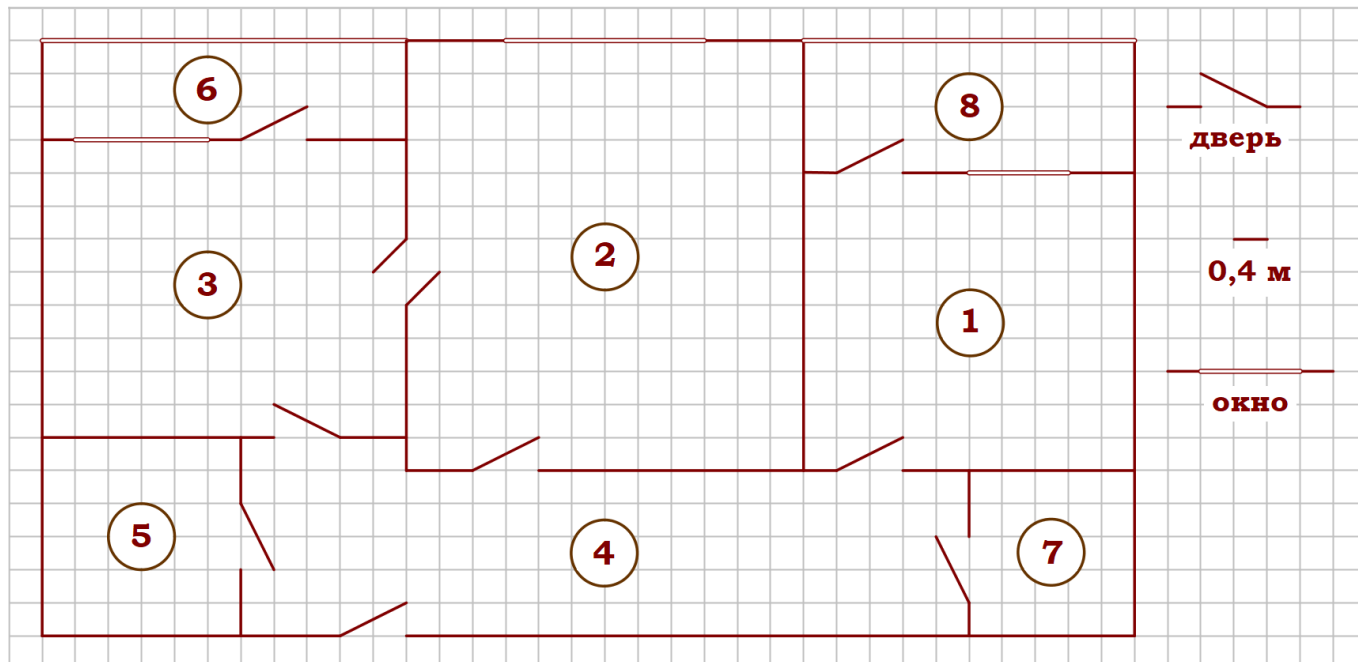
Ответ: _____.

5. В квартире планируется заменить электрическую плиту. Характеристики электроплит, условия подключения и доставки приведены в таблице. Планируется купить электрическую плиту глубиной 60 см с максимальной температурой не менее 270°C.

Мо-дель	Объём духовки (л)	Макси-мальная температура (°C)	Стоимость плиты (руб.)	Стоимость подклю-чения (руб.)	Стоимость доставки (% от стоимости плиты)	Габариты (высота × ширина × глубина, см)
А	50	280	8890	1700	бесплатно	85×50×54
Б	50	300	9790	750	10	85×50×54
В	50	250	11 690	700	10	85×60×60
Г	52	250	17 490	800	10	85×60×60
Д	70	275	17 990	1400	бесплатно	85×60×45
Е	58	250	18 890	1500	бесплатно	85×50×60
Ж	54	270	18 900	750	15	85×50×60
З	46	250	20 990	750	10	87×50×60
И	70	275	21 690	1500	бесплатно	85×50×60
К	67	250	22 990	1500	бесплатно	85×50×60

Сколько рублей будет стоить наиболее дешёвый подходящий вариант вместе с подключением и доставкой?

Ответ: _____.



Задание 6. На рисунке изображён план двухкомнатной квартиры в многоэтажном жилом доме. Сторона одной клетки на плане соответствует 0,4 м, а условные обозначения двери и окна приведены в правой части рисунка. Вход в квартиру находится в коридоре. Слева от входа в квартиру находится санузел, а в противоположном конце коридора – дверь в кладовую. Рядом с кладовой находится спальня, из которой можно пройти на одну из застеклённых лоджий. Самое большое по площади помещение – гостиная, откуда можно попасть в коридор и на кухню. Из кухни также можно попасть на застеклённую лоджию.

1. Для объектов, указанных в таблице, определите, какими цифрами они обозначены на плане. Заполните таблицу, в бланк перенесите последовательность четырёх цифр без пробелов, запятых и других дополнительных символов.

Объекты	кладовая	спальня	кухня	гостиная
Цифры				

2. Найдите площадь кладовой. Ответ дайте в квадратных метрах.

Ответ: _____.

3. На сколько процентов площадь санузла меньше лоджии, примыкающей к спальне?

Ответ: _____.

4. Паркетная доска размером 20 см на 40 см продаётся в упаковках по 8 штук. Сколько упаковок паркетной доски понадобится, чтобы выложить пол спальни?

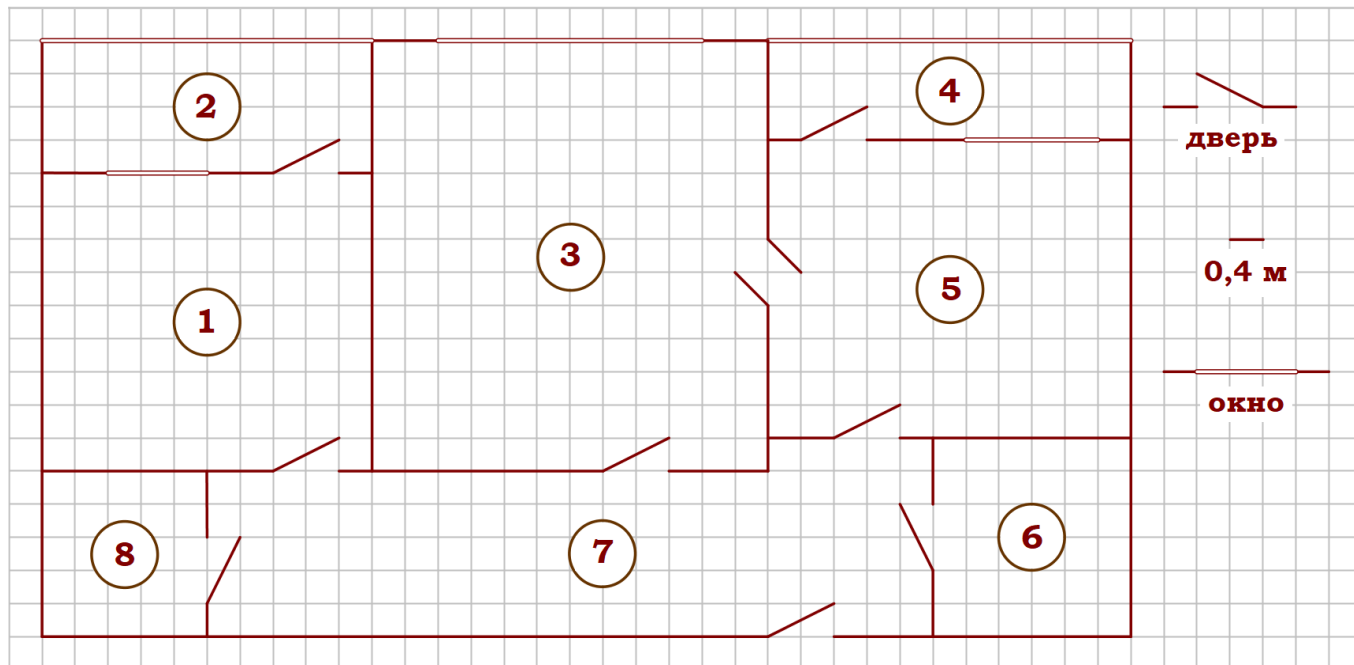
Ответ: _____.

5. В квартире планируется заменить электрическую плиту. Характеристики электроплит, условия подключения и доставки приведены в таблице. Планируется купить электрическую плиту шириной 60 см с духовкой объёмом не менее 52 л.

Мо-дель	Объём духовки (л)	Макси-мальная температура (°C)	Стоимость плиты (руб.)	Стоимость подклю-чения (руб.)	Стоимость доставки (% от стоимости плиты)	Габариты (высота × ширина × глубина, см)
А	50	280	8890	1700	бесплатно	85×50×54
Б	50	300	9790	750	10	85×50×54
В	50	250	11 690	700	10	85×60×60
Г	52	250	17 490	800	10	85×60×60
Д	70	275	17 990	1400	бесплатно	85×60×45
Е	58	250	18 890	1500	бесплатно	85×50×60
Ж	54	270	18 900	750	15	85×50×60
З	46	250	20 990	750	10	87×50×60
И	70	275	21 690	1500	бесплатно	85×50×60
К	67	250	22 990	1500	бесплатно	85×50×60

Сколько рублей будет стоить наиболее дешёвый подходящий вариант вместе с подключением и доставкой?

Ответ: _____.



Задание 7. На рисунке изображён план двухкомнатной квартиры в многоэтажном жилом доме. Сторона одной клетки на плане соответствует 0,4 м, а условные обозначения двери и окна приведены в правой части рисунка. Вход в квартиру находится в коридоре. Справа от входа в квартиру находится санузел, а в противоположном конце коридора – дверь в кладовую. Рядом с кладовой находится спальня, из которой можно пройти на одну из застеклённых лоджий. Самое большое по площади помещение – гостиная, откуда можно попасть в коридор и на кухню. Из кухни также можно попасть на застеклённую лоджию.

1. Для объектов, указанных в таблице, определите, какими цифрами они обозначены на плане. Заполните таблицу, в бланк перенесите последовательность четырёх цифр без пробелов, запятых и других дополнительных символов.

Объекты	санузел	кладовая	спальня	гостиная
Цифры				

2. Найдите площадь гостиной. Ответ дайте в квадратных метрах.

Ответ: _____.

3. На сколько процентов площадь санузла больше площади кладовой?

Ответ: _____.

4. Плитка для пола размером 40 см на 40 см продаётся в упаковках по 12 штук. Сколько упаковок плитки понадобилось, чтобы выложить пол обеих лоджий?

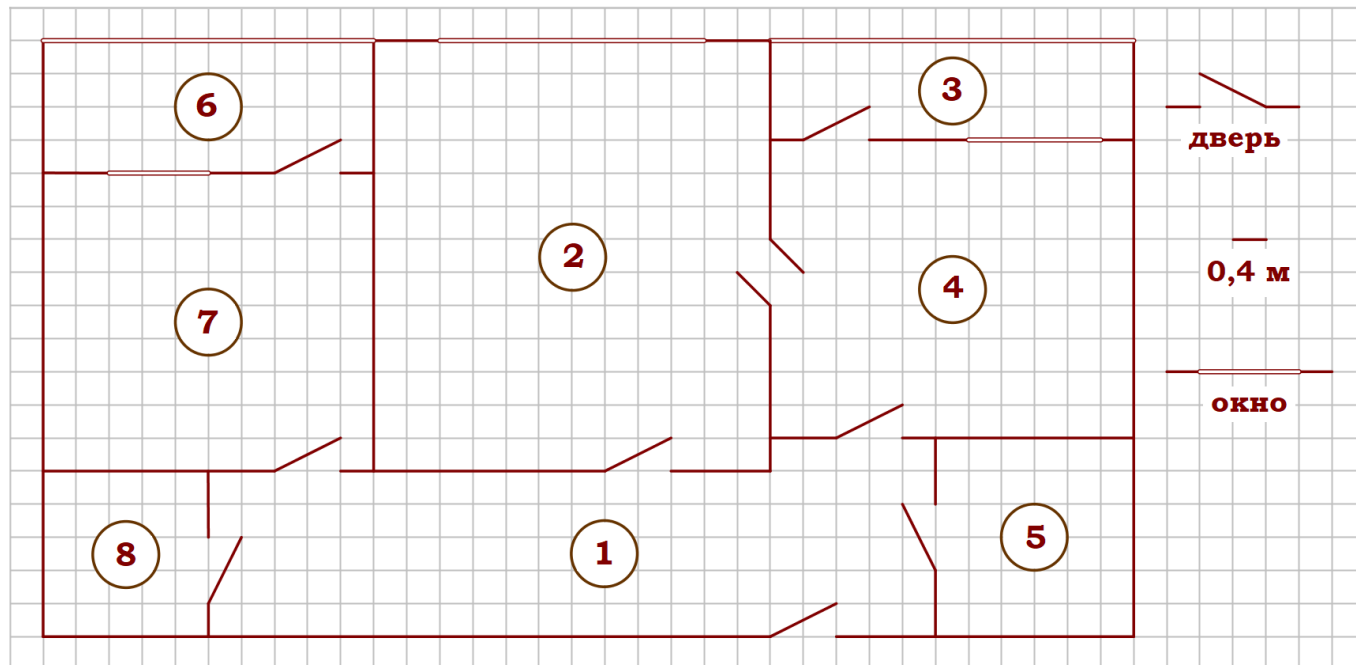
Ответ: _____.

5. В квартире планируется установить стиральную машину. Характеристики стиральных машин, условия подключения и доставки приведены в таблице. Планируется купить стиральную машину с вертикальной загрузкой вместимостью не менее 6 кг.

Модель	Вместимость барабана (кг)	Тип загрузки	Стоимость (руб.)	Стоимость подключения (руб.)	Стоимость доставки (% от стоимости машины)	Габариты (высота × ширина × глубина, см)
А	7	верт.	28 000	1700	бесплатно	85×60×45
Б	5	фронт.	24 000	4500	10	85×60×40
В	5	фронт.	25 000	5000	10	85×60×40
Г	6,5	фронт.	24 000	4500	10	85×60×44
Д	6	фронт.	28 000	1700	бесплатно	85×60×45
Е	6	верт.	27 600	2300	бесплатно	89×60×40
Ж	6	верт.	27 585	1900	10	89×60×40
З	6	фронт.	20 000	6300	15	85×60×42
И	5	фронт.	27 000	1800	бесплатно	85×60×40
К	5	верт.	27 000	1800	бесплатно	85×60×40

Сколько рублей будет стоить наиболее дешёвый подходящий вариант вместе с подключением и доставкой?

Ответ: _____.



Задание 8. На рисунке изображён план двухкомнатной квартиры в многоэтажном жилом доме. Сторона одной клетки на плане соответствует 0,4 м, а условные обозначения двери и окна приведены в правой части рисунка. Вход в квартиру находится в коридоре. Справа от входа в квартиру находится санузел, а в противоположном конце коридора – дверь в кладовую. Рядом с кладовой находится спальня, из которой можно пройти на одну из застеклённых лоджий. Самое большое по площади помещение – гостиная, откуда можно попасть в коридор и на кухню. Из кухни также можно попасть на застеклённую лоджию.

1. Для объектов, указанных в таблице, определите, какими цифрами они обозначены на плане. Заполните таблицу, в бланк перенесите последовательность четырёх цифр без пробелов, запятых и других дополнительных символов.

Объекты	гостиная	спальня	коридор	кухня
Цифры				

2. Найдите площадь спальни. Ответ дайте в квадратных метрах.

Ответ: _____.

3. На сколько процентов площадь лоджии, примыкающей к кухне, больше площади кладовой?

Ответ: _____.

4. Плитка для пола размером 20 см на 40 см продаётся в упаковках по 8 штук. Сколько упаковок плитки понадобилось, чтобы выложить пол обеих лоджий?

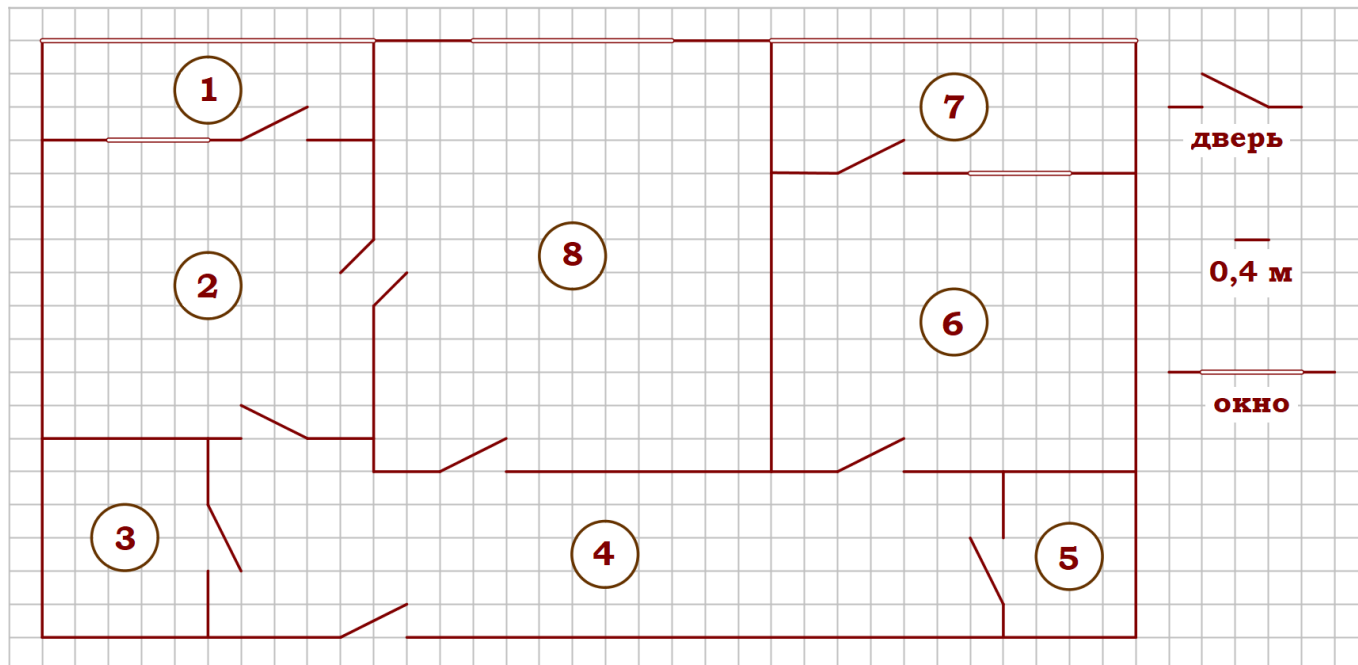
Ответ: _____.

5. В квартире планируется установить стиральную машину. Характеристики стиральных машин, условия подключения и доставки приведены в таблице. Планируется купить стиральную машину с вертикальной загрузкой, не превосходящую 85 см по высоте.

Модель	Вместимость барабана (кг)	Тип загрузки	Стоимость (руб.)	Стоимость подключения (руб.)	Стоимость доставки (% от стоимости машины)	Габариты (высота × ширина × глубина, см)
А	7	верт.	28 000	1700	бесплатно	85×60×45
Б	5	фронт.	24 000	4500	10	85×60×40
В	5	фронт.	25 000	5000	10	85×60×40
Г	6,5	фронт.	24 000	4500	10	85×60×44
Д	6	фронт.	28 000	1700	бесплатно	85×60×45
Е	6	верт.	27 600	2300	бесплатно	89×60×40
Ж	6	верт.	27 585	1900	10	89×60×40
З	6	фронт.	20 000	6300	15	85×60×42
И	5	фронт.	27 000	1800	бесплатно	85×60×40
К	5	верт.	27 000	1800	бесплатно	85×60×40

Сколько рублей будет стоить наиболее дешёвый подходящий вариант вместе с подключением и доставкой?

Ответ: _____.



Задание 9. На рисунке изображён план двухкомнатной квартиры в многоэтажном жилом доме. Сторона одной клетки на плане соответствует 0,4 м, а условные обозначения двери и окна приведены в правой части рисунка. Вход в квартиру находится в коридоре. Слева от входа в квартиру находится санузел, а в противоположном конце коридора – дверь в кладовую. Рядом с кладовой находится спальня, из которой можно пройти на одну из застеклённых лоджий. Самое большое по площади помещение – гостиная, откуда можно попасть в коридор и на кухню. Из кухни также можно попасть на застеклённую лоджию.

1. Для объектов, указанных в таблице, определите, какими цифрами они обозначены на плане. Заполните таблицу, в бланк перенесите последовательность четырёх цифр без пробелов, запятых и других дополнительных символов.

Объекты	спальня	кухня	кладовая	гостиная
Цифры				

2. Найдите площадь кухни. Ответ дайте в квадратных метрах.

Ответ: _____.

3. На сколько процентов площадь санузла меньше площади коридора?

Ответ: _____.

4. Паркетная доска размером 20 см на 80 см продаётся в упаковках по 12 штук. Сколько упаковок паркетной доски понадобилось, чтобы выложить пол спальни?

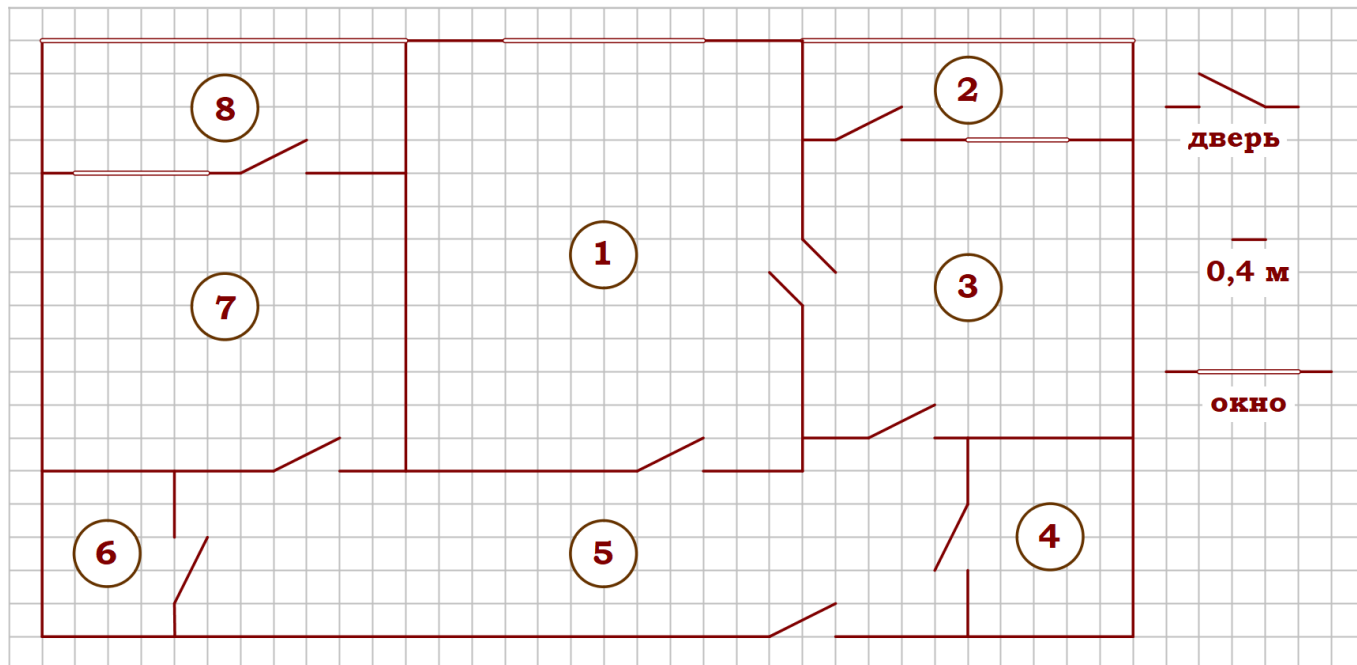
Ответ: _____.

5. В квартире планируется подключить интернет. Предполагается, что трафик составит 650 Мб в месяц, и исходя из этого выбирается наиболее дешёвый вариант. Интернет-провайдер предлагает три тарифных плана.

Тарифный план	Абонентская плата	Плата за трафик
План «500»	600 руб. за 500 Мб трафика в месяц	2 руб. за 1 Мб сверх 500 Мб
План «1000»	820 руб. за 1000 Мб трафика в месяц	1,5 руб. за 1 Мб сверх 1000 Мб
План «Безлимитный»	900 руб. за неограниченное количество Мб трафика	----

Сколько рублей нужно будет заплатить за интернет за месяц, если трафик действительно будет равен 650 Мб?

Ответ: _____.



Задание 10. На рисунке изображён план двухкомнатной квартиры в многоэтажном жилом доме. Сторона одной клетки на плане соответствует 0,4 м, а условные обозначения двери и окна приведены в правой части рисунка. Вход в квартиру находится в коридоре. Справа от входа в квартиру находится санузел, а в противоположном конце коридора – дверь в кладовую. Рядом с кладовой находится спальня, из которой можно пройти на одну из застеклённых лоджий. Самое большое по площади помещение – гостиная, откуда можно попасть в коридор и на кухню. Из кухни также можно попасть на застеклённую лоджию.

1. Для объектов, указанных в таблице, определите, какими цифрами они обозначены на плане. Заполните таблицу, в бланк перенесите последовательность четырёх цифр без пробелов, запятых и других дополнительных символов.

Объекты	коридор	санузел	гостиная	кухня
Цифры				

2. Найдите площадь гостиной. Ответ дайте в квадратных метрах.

Ответ: _____.

3. На сколько процентов площадь кухни меньше площади коридора?

Ответ: _____.

4. Паркетная доска размером 20 см на 40 см продаётся в упаковках по 8 штук. Сколько упаковок паркетной доски понадобилось, чтобы выложить пол кладовой?

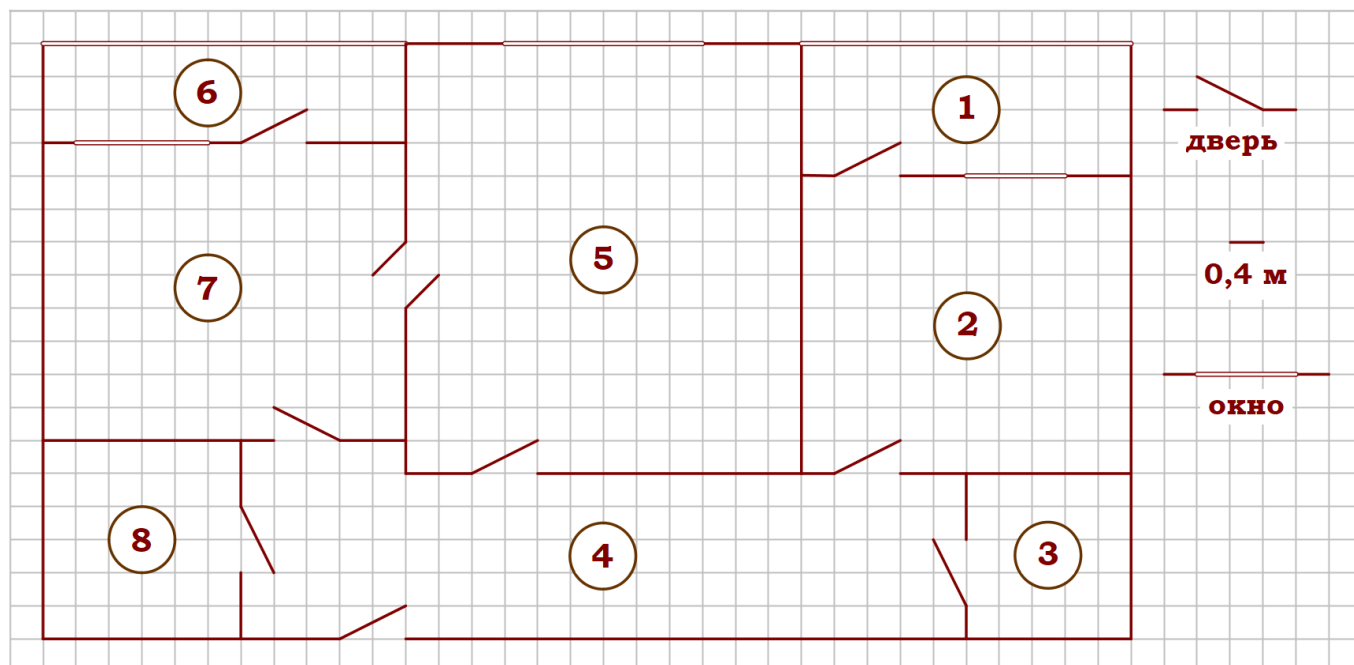
Ответ: _____.

5. В квартире планируется подключить интернет. Предполагается, что трафик составит 650 Мб в месяц, и исходя из этого выбирается наиболее дешёвый вариант. Интернет-провайдер предлагает три тарифных плана.

Тарифный план	Абонентская плата	Плата за трафик
План «600»	500 руб. за 600 Мб трафика в месяц	2 руб. за 1 Мб сверх 600 Мб
План «800»	720 руб. за 800 Мб трафика в месяц	1,5 руб. за 1 Мб сверх 800 Мб
План «Безлимитный»	800 руб. за неограниченное количество Мб трафика	-----

Сколько рублей нужно будет заплатить за интернет за месяц, если трафик действительно будет равен 650 Мб?

Ответ: _____.



Задание 11. На рисунке изображён план двухкомнатной квартиры в многоэтажном жилом доме. Сторона одной клетки на плане соответствует 0,4 м, а условные обозначения двери и окна приведены в правой части рисунка. Вход в квартиру находится в коридоре. Слева от входа в квартиру находится санузел, а в противоположном конце коридора – дверь в кладовую. Рядом с кладовой находится спальня, из которой можно пройти на одну из застеклённых лоджий. Самое большое по площади помещение – гостиная, откуда можно попасть в коридор и на кухню. Из кухни также можно попасть на застеклённую лоджию.

1. Для объектов, указанных в таблице, определите, какими цифрами они обозначены на плане. Заполните таблицу, в бланк перенесите последовательность четырёх цифр без пробелов, запятых и других дополнительных СИМВОЛОВ.

Объекты	коридор	кладовая	санузел	спальня
Цифры				

2. Найдите площадь санузла. Ответ дайте в квадратных метрах.

Ответ: _____.

3. На сколько процентов площадь гостиной больше площади кладовой?

Ответ: _____.

4. Паркетная доска размером 20 см на 40 см продаётся в упаковках по 8 штук. Сколько упаковок паркетной доски понадобилось, чтобы выложить пол коридора?

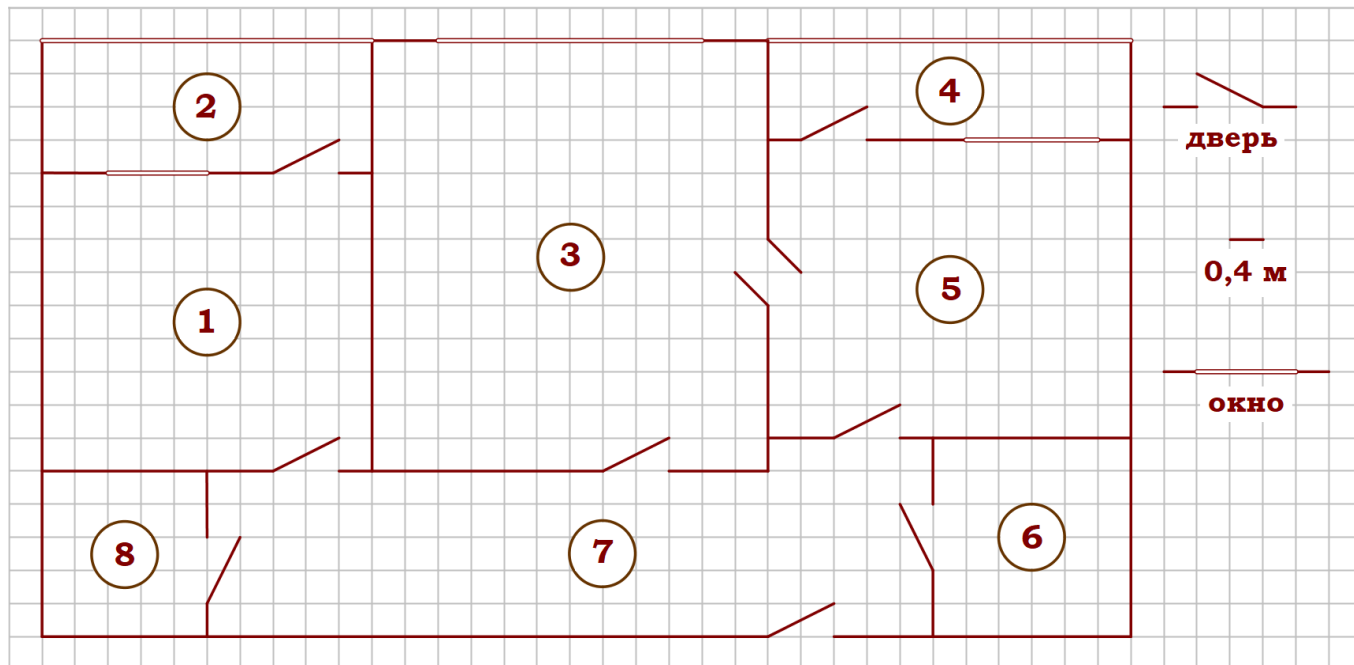
Ответ: _____.

5. В квартире планируется подключить интернет. Предполагается, что трафик составит 850 Мб в месяц, и исходя из этого выбирается наиболее дешёвый вариант. Интернет-провайдер предлагает три тарифных плана.

Тарифный план	Абонентская плата	Плата за трафик
План «800»	900 руб. за 800 Мб трафика в месяц	2 руб. за 1 Мб сверх 800 Мб
План «1000»	1050 руб. за 1000 Мб трафика в месяц	1,5 руб. за 1 Мб сверх 1000 Мб
План «Безлимитный»	1100 руб. за неограниченное количество Мб трафика	----

Сколько рублей нужно будет заплатить за интернет за месяц, если трафик действительно будет равен 850 Мб?

Ответ: _____.



Задание 12. На рисунке изображён план двухкомнатной квартиры в многоэтажном жилом доме. Сторона одной клетки на плане соответствует 0,4 м, а условные обозначения двери и окна приведены в правой части рисунка. Вход в квартиру находится в коридоре. Справа от входа в квартиру находится санузел, а в противоположном конце коридора – дверь в кладовую. Рядом с кладовой находится спальня, из которой можно пройти на одну из застеклённых лоджий. Самое большое по площади помещение – гостиная, откуда можно попасть в коридор и на кухню. Из кухни также можно попасть на застеклённую лоджию.

1. Для объектов, указанных в таблице, определите, какими цифрами они обозначены на плане. Заполните таблицу, в бланк перенесите последовательность четырёх цифр без пробелов, запятых и других дополнительных символов.

Объекты	гостиная	спальня	кухня	кладовая
Цифры				

2. Найдите площадь коридора. Ответ дайте в квадратных метрах.

Ответ: _____.

3. На сколько процентов площадь кухни больше площади кладовой?

Ответ: _____.

4. Паркетная доска размером 20 см на 80 см продаётся в упаковках по 12 штук. Сколько упаковок паркетной доски понадобилось, чтобы выложить пол гостиной?

Ответ: _____.

5. В квартире планируется подключить интернет. Предполагается, что трафик составит 700 Мб в месяц, и исходя из этого выбирается наиболее дешёвый вариант. Интернет-провайдер предлагает три тарифных плана.

Тарифный план	Абонентская плата	Плата за трафик
План «600»	650 руб. за 600 Мб трафика в месяц	2 руб. за 1 Мб сверх 600 Мб
План «900»	830 руб. за 900 Мб трафика в месяц	1,5 руб. за 1 Мб сверх 900 Мб
План «Безлимитный»	930 руб. за неограниченное количество Мб трафика	----

Сколько рублей нужно будет заплатить за интернет за месяц, если трафик действительно будет равен 700 Мб?

Ответ: _____.

ДОКУМЕНТ ПОДПИСАН
ЭЛЕКТРОННОЙ ПОДПИСЬЮ

СВЕДЕНИЯ О СЕРТИФИКАТЕ ЭП

Сертификат 726242342903868691666490759959119263676517201321

Владелец Мирончук Светлана Юрьевна

Действителен с 19.09.2023 по 18.09.2024